

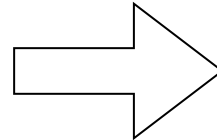
くだものの のこりはいくつ？



ばななが7こ
あります





ばななを2こ
たべました



?

のこりは？

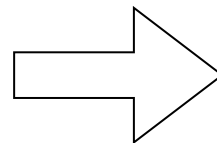
$$7 - 2 =$$



りんごが8こ
あります





りんごを3こ
たべました



?

のこりは？

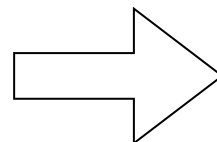
$$8 - 3 =$$



ぶどうが6こ
あります



ぶどうを2こ
たべました



?

のこりは？

$$6 - 2 =$$

