


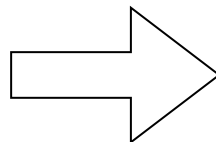
くだものの のこりはいくつ？



いちごが6こ
あります



いちごを3こ
たべました



?



のこりは？

6

—

3

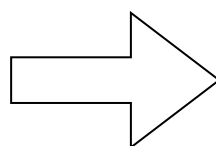
=



みかんが9こ
あります



みかんを4こ
たべました



?



のこりは？

9

—

4

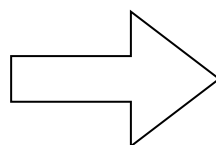
=



めろんが7こ
あります



めろんを5こ
たべました



?

のこりは？

7

—

5

=

